

AB 11 + übe mit A4 fol

1 Ordne jedem Viereck die richtige Beschreibung zu. Verbinde. 



Quadrat

(gelb)

Rechteck

(grün)

Parallelogramm

(blau)

Trapez

(rot)

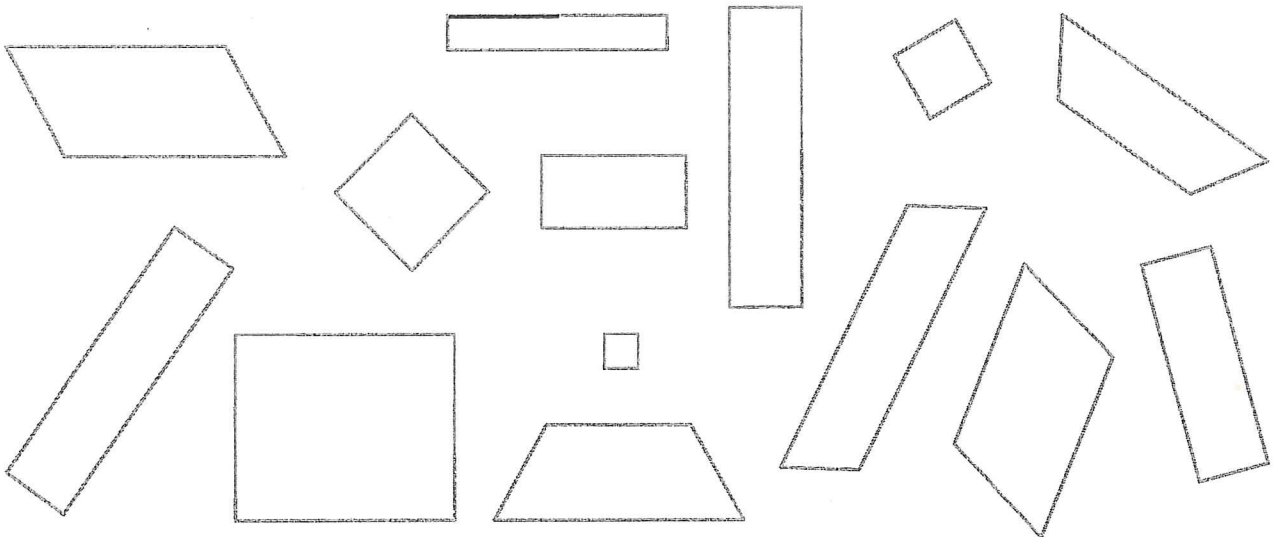
Ein Viereck, das mindestens ein Paar zueinander paralleler Seiten hat.

Ein Viereck, das vier gleich lange Seiten und vier rechte Winkel hat.

Ein Viereck, bei dem jeweils zwei gegenüberliegende Seiten parallel und gleich lang sind und das außerdem vier rechte Winkel hat.

Ein Viereck, bei dem jeweils zwei gegenüberliegende Seiten parallel sind.

2 Färbe die Vierecke in den oben abgebildeten Farben. Schreibe ihre Anzahl auf. 



Quadrate

Rechtecke

Parallelogramme

Trapeze

$$8 : 4 = 2$$

$$80 : 4 = 20$$

$$800 : 4 = 200$$

$$8000 : 4 = 2000$$

$$80000 : 4 = 20000$$

$$800000 : 4 = 200000$$

Achte auf die Nullen!




1 Dividiere. 

$21 : 3 =$	$64 : 8 =$
$210 : 3 =$	$640 : 8 =$
$2100 : 3 =$	$6400 : 8 =$
$21000 : 3 =$	$64000 : 8 =$
$210000 : 3 =$	$640000 : 8 =$

2 Finde die kleine Aufgabe und dividiere. 

$2000 : 5 =$	$600000 : 2 =$
$20 : 5 =$	$: =$
$4500 : 9 =$	$49000 : 7 =$
$: =$	$: =$

3 Dividiere. Denke an die kleine Aufgabe. 

$36000 : 6 =$	$900 : 3 =$
$180000 : 9 =$	$350000 : 5 =$
$7200 : 8 =$	$280 : 7 =$
$150000 : 3 =$	$16000 : 2 =$





Meter und Zentimeter



Trage die fehlenden Zahlen in die Tabelle ein.

	m	cm	
565 cm	5	65	5,65 m
	3	70	
404 cm			
			8,05 m
150 cm			
	25	50	
8 cm			
			0,75 m

1 Meter = 100 Zentimeter
1 m = 100 cm



Wie viele Meter sind das?

630 cm = 6,30 m

890 cm = _____

75 cm = _____

12 cm = _____

504 cm = _____

7808 cm = _____

6070 cm = _____

Wie viele Zentimeter sind das?

6,80 m = 680 cm

4,45 m = _____

8,07 m = _____

0,56 m = _____

32,40 m = _____

0,09 m = _____

7,04 m = _____

Größer, kleiner oder gleich
(>, <, =)

5,40 m 450 cm

2,50 m 205 cm

0,08 m 80 cm

5,50 m 550 cm

2,20 m 22 cm

9,99 m 999 cm

Wie viele Meter und Zentimeter sind das?
9,2 m = 9 m + 20 cm

6,50 m = _____

15,30 m = _____

22,20 m = _____

7,70 m = _____

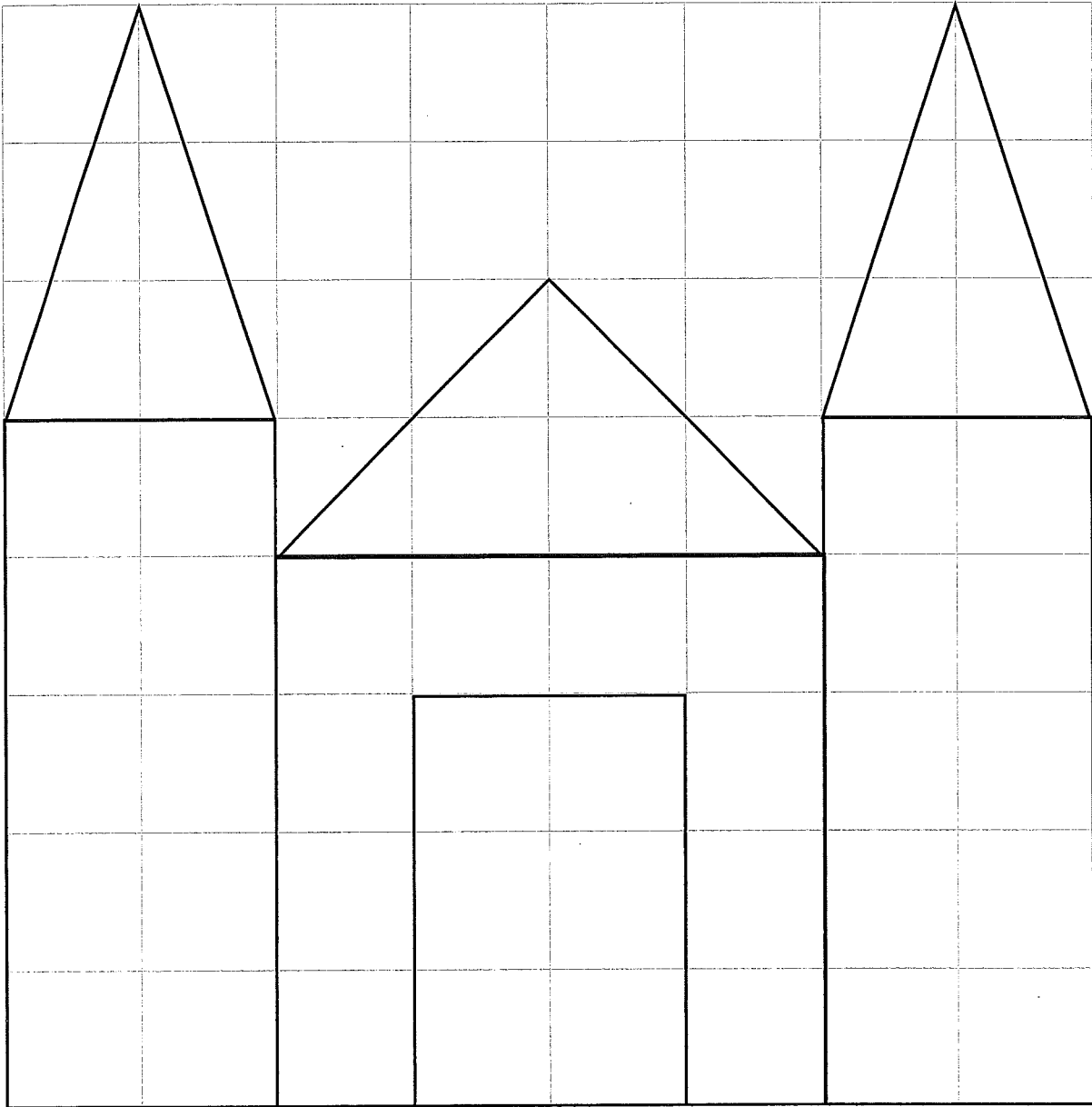
0,55 m = _____

0,07 m = _____

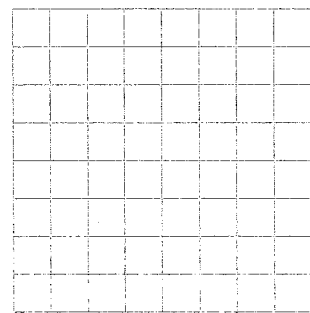

66,60 m = _____

• Verkleinern 1

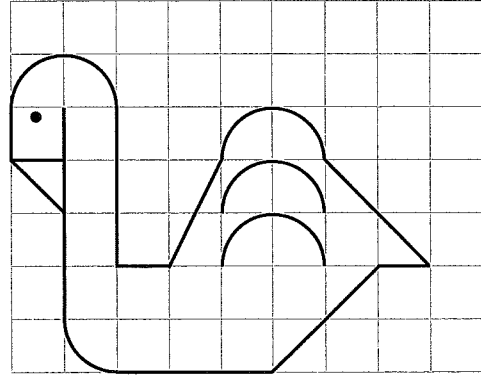
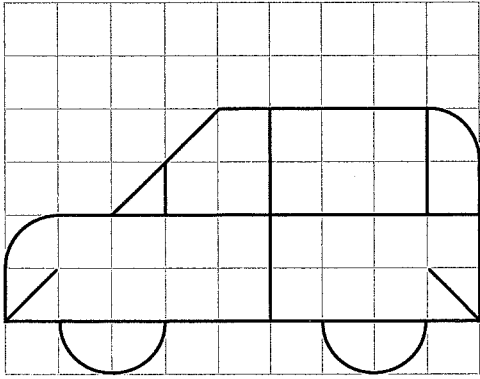
© Diesterweg, Braunschweig




978-3-425-13229-7



• Vergrößern 2 



© Diesterweg, Braunschweig



978-3-425-13229-7