



1 Betrachte die Uhr im Spiegel. Bestimme die tatsächliche Uhrzeit.
Zeichne zuerst. Lies dann die Uhrzeit für eine Tageshälfte ab.

a) 17.05 Uhr

b) 20.20 Uhr

c) 15.30 Uhr

d) 14.45 Uhr

2 Bestimme die Uhrzeit, ohne zu zeichnen.

a)

Uhrzeit im Spiegel	tatsächliche Uhrzeit
3.15 Uhr	8.45 Uhr
5.30 Uhr	18.30 Uhr 6.30 Uhr

b)

Uhrzeit im Spiegel	tatsächliche Uhrzeit
7.55 Uhr	4.05 Uhr
9.03 Uhr	2.57 Uhr

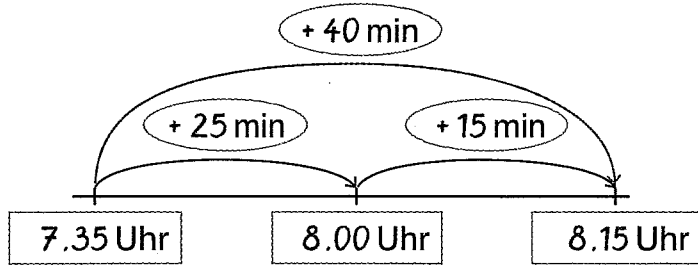
3 Bei welchen beiden Uhrzeiten entspricht die „Uhrzeit im Spiegel“ der tatsächlichen Uhrzeit?

12 Uhr 18 Uhr


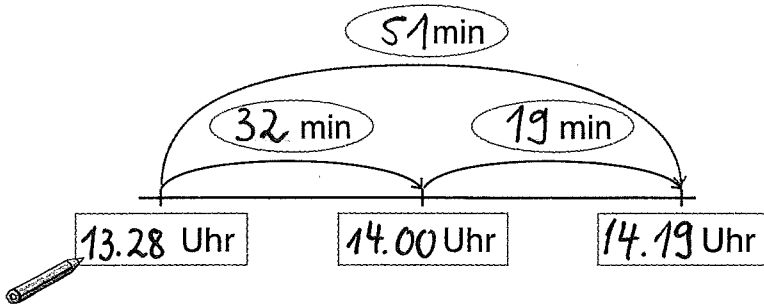


1 Schreibe auf, wie viele Minuten (min) vergangen sind.

a) 7.35 Uhr $\xrightarrow{+ 40 \text{ min}}$ 8.15 Uhr

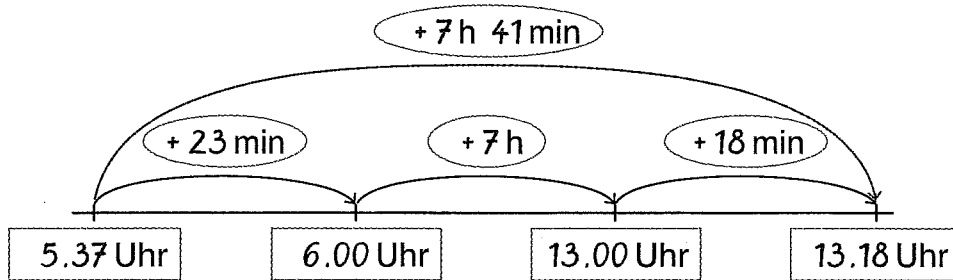


b) 13.28 Uhr $\xrightarrow{51 \text{ min}}$ 14.19 Uhr



2 Schreibe auf, wie viele Stunden (h) und Minuten (min) vergangen sind.

a) 5.37 Uhr $\xrightarrow{+ 7 \text{ h } 41 \text{ min}}$ 13.18 Uhr



b) 9.56 Uhr $\xrightarrow{10 \text{ h } 21 \text{ min}}$ 20.17 Uhr

